

六盘水市 2017 年初中毕业生学业(升学)考试试题卷

综合文科

温馨提示:1. 本试卷包括试题卷和答题卡,所有答案必须填涂或书写在答题卡上规定的位置,否则无效,考试结束后,试题卷和答题卡一并交回。

2. 本卷为思想品德学科、历史学科合卷,全卷共 8 页,共 41 小题,满分 150 分,其中思想品德 75 分,历史 75 分,答题时间 120 分钟。考试形式为开卷。

3. 第 1-20、36-38 题为思想品德学科试题;第 21-35、39-41 题为历史学科试题。

第 I 卷(选择题共 70 分)

一、单项选择题(本大题 1-20 小题为思想品德学科选择题,每小题 2 分,共 40 分;第 21-35 小题为历史学科选择题,每小题 2 分,共 30 分。下列各题的备选答案中,只有一项符合题意。请用 2B 铅笔将正确选项填涂在答题卡相应题号的字母位置内)

1. 习近平总书记在 2016 年的“七一”讲话中,除了强调“不忘初心”,还谈到了中国的自信。中国的自信本质上是(▲)

- A. 道路自信 B. 制度自信 C. 理论自信 D. 文化自信

2. 2016 年 8 月 16 日,我国在酒泉卫星发射中心成功将世界首颗量子科学实验卫星“(▲)”发射升空,这是我国科学家在世界量子科学领域取得的开创性成就。

- A. 孔子号 B. 墨子号 C. 庄子号 D. 荀子号

3. 2016 年 10 月 21 日,纪念红军长征胜利 80 周年大会在北京人民大会堂隆重举行,习近平总书记在会上发表重要讲话并强调,我们这一代人的长征,就是要实现(▲)奋斗目标、实现中华民族伟大复兴的中国梦。

- A. 全面建设小康社会 B. 全面建成小康社会
C. “两个一百年” D. 实现社会主义现代化

4. 2017 年 1 月 20 日,(▲)宣誓就任美国第 45 任总统,并发表以“唯有美国第一”为主旨、以保护主义为主基调的就职演讲。

- A. 奥巴马 B. 特朗普 C. 希拉里 D. 克林顿

5. 先秦时期,儒家学者们就提出了“仁义礼智信”来规范和约束人们的社会行为。如“爱人者,仁恒爱之;敬人者,人恒敬之。”下列能体现“仁”的有(▲)

- ①为了帮助小军,王强拿作业给他抄
②婷婷帮助生病的李丽打扫教室卫生
③袁隆平为我国粮食安全做出重大贡献
④药学家屠呦呦发现了青蒿素,标志着人类抗疟疾药物发展的新方向

- A. ②③④ B. ①②④ C. ①③④ D. ①②③

6. 从 2017 年春季学期开始, 国家统一对城乡义务教育阶段的学生(含民办学校学生)免除学杂费, 免费提供教科书, 补助家庭经济困难寄宿生生活费。这表明(▲)

- ①我国已经实现了教育公平
 - ②教育的发展要与经济社会发展相协调
 - ③实现教育公平是我国发展的中心工作
 - ④我国政府积极推进教育公平
- A. ①③ B. ①④ C. ②③ D. ②④

7. 结合生活实际, 说说青少年容易陷入毒品“雷区”的原因有(▲)

- ①盲目从众心理的驱使
 - ②觉得好奇、新鲜、刺激等猎奇心的驱使
 - ③青少年警惕性低, 更易上当
 - ④放学后和同学出去玩
- A. ①②④ B. ①②③ C. ②③④ D. ①③④

8. 在学校, 我们可以以小人大代表的身份给“校团委”“学校行政”提出“议案”, 为学校发展建言献策。这样做(▲)

- ①可以培养我们的参政意识
 - ②可以提高我们的民主意识
 - ③可以确保我们以后成为一名真正的人大代表
 - ④有利于提高我们关心学校、参与社会生活的责任感和能力
- A. ①②④ B. ②③④ C. ①②③ D. ①③④

9. “法治中国, 人人共建”。下列能体现法治中国的有(▲)

- ①传承中华优秀传统文化
 - ②司法公正, 政治清廉
 - ③公平正义, 社会和谐
 - ④依法行政, 国泰民安
- A. ①②③ B. ①②④ C. ②③④ D. ①③④

10. 右边图 1 漫画《屏奴》中的“低头族”应该(▲)

- ①以丰富的文化生活充实自己
 - ②顺应这一社会发展的潮流
 - ③远离手机这一不良诱惑
 - ④养成良好的学习和生活习惯, 不应沉迷于网络
- A. ①② B. ①④ C. ②③ D. ③④



图1

11. 2016 年 9 月 5 日, 二十国集团领导人第十一次峰会闭幕。会后习近平主席向中外记者介绍峰会成果时说, 我们同意在落实气候变化《巴黎协定》方面发挥表率作用, 推动《巴黎协定》尽早生效。下列对习近平主席的这一承诺理解正确的是(▲)

- ①中国积极参与保护地球的行动
 - ②保护大气环境是世界各国的责任
 - ③中国主导着世界的发展
 - ④中国是一个和平、合作、负责任的国家
- A. ①②④ B. ①③④ C. ①②③ D. ②③④

12. 李克强总理在 2017 年《政府工作报告》中强调: “坚决打好蓝天保卫战。今年二氧化硫、氮氧化物排放量要分别下降 3%, 重点地区细颗粒物(PM2.5)浓度明显下降。”要打好蓝天保卫战, 必须坚持的基本国策是(▲)

- A. 计划生育
- B. 保护环境
- C. 对外开放
- D. 节约资源

13. 贵州省委对六盘水经济提出了高举循环经济发展的旗帜要求,围绕循环经济“减量化,资源化,再利用”的原则,全面创新工作机制,促进全市循环经济工作发展。这一要求体现我国的哪一项发展战略(▲)
- A. 科教兴国战略
B. 西部大开发战略
C. 可持续发展战略
D. 人才强国战略

14. 八年级学生小凯喜欢画画,看着自己笔下一个个栩栩如生的小动物,一幅幅青山绿水的优美风景画,他觉得非常幸福。你认为他的“幸福门票”是(▲)
- A. 培养兴趣爱好
B. 多交益友
C. 奉献社会
D. 报效祖国

15. 图2 漫画《百舸争流》体现了(▲)




图2

- ①我国毫不动摇地巩固和发展公有制经济
②我国鼓励、支持、引导非公有制经济发展
③我国各种所有制经济平等竞争、相互促进的新格局已经形成
④公有制经济和非公有制经济地位已经平等

- A. ①③④
B. ①②④
C. ②③④
D. ①②③

16. 思想品德老师给同学们出了一个谜语:法律地位它最高,若论效力也难超;时时都在你身边,敢为普通法撑腰。以下对这个谜语理解正确的是(▲)

- ①宪法是国家的根本大法
②普通法律依据宪法制定
③宪法规定国家的根本问题
④宪法是治国安邦的总章程
- A. ②③④
B. ①②③
C. ①②④
D. ①③④

17. “一屋不扫,何以扫天下?”说明了什么道理(▲)

- A. 承担责任是大人们的事情,与青少年无关
B. 好男儿志在四方,怎么能做扫屋子这种小事
C. 各人自扫门前雪,哪管他人瓦上霜
D. 从小处着手,从身边做起,认真做好分内的每一件事,这是我们承担责任的起跑线

18. 青年歌手姚贝娜病逝前决定捐献眼角膜,帮助他人重获光明。这种行为体现了(▲)

- ①藐视生命,视生命为身外之物
②尊重生命,实现生命的价值
③关爱他人,实现生命的价值
④生命的价值在于对社会的贡献
- A. ①②④
B. ①②③
C. ①③④
D. ②③④

19. 2017年春节,某电商推出了“五福红包”活动,“五福”分别是和谐、爱国、敬业、友善和富强,给予了国家和人民很大的祝福。你的好友小华通过“春蚕到死丝方尽,蜡炬成灰泪始干”这样的诗句,想让你送一张福给他,你会赐给他哪张福(▲)

- A. 和谐福
B. 爱国福
C. 敬业福
D. 友善福

20. 我国中小学教材从2017年春季开始将八年抗战全部修改为十四年抗战。这次修改说明(▲)

- ①我国政府坚持实事求是的原则
②党和政府尊重历史,尊重客观事实
③和平与发展是当今世界的两大主题
④我国政府坚持独立自主的外交政策
- A. ②③
B. ①④
C. ①②
D. ③④

21. 《礼记·礼运》：“大道之行也，天下为公，选贤与能，讲信修睦。故人不独亲其亲，不独子其子，使老有所终，壮有所用，幼有所长，鳏、寡、孤、独、废疾者皆有所养，男有分，女有归。”其中，“选贤与能”指的是我国古代的什么制度(▲)

- A. 分封制 B. 世袭制 C. 禅让制 D. 宗法制

22. “以人为本,关注民生”是古往今来治国兴邦的基本经验。我国古代思想家最早提出“仁”的学说,主张“爱人”、“为政以德”的是(▲)

- A. 孔子 B. 老子 C. 孟子 D. 荀子

23. 魏源在《圣武记》中写道：“是时，朝廷已平三藩，定陇蜀，收台湾，鄂（俄）罗斯，天下无事。圣祖以噶尔丹势炽，既入犯，其志不在小……六月集大臣于朝，下诏亲征”。这里的“圣祖”是(▲)

- A. 顺治帝 B. 康熙帝 C. 雍正帝 D. 乾隆帝

24. 《时局图》是近代爱国者谢缙泰所作，生动形象地揭露了清政府腐败和帝国主义列强对中国的瓜分。请问图3描绘的是什么条约签订后的情景？(▲)



图3

- A. 《南京条约》
B. 《北京条约》
C. 《马关条约》
D. 《辛丑条约》

25. 阅读下面民国时期中国民族工业发展变化统计表。中国民族工业出现这种变化的原因是(▲)

年份	拥有厂家	拥有资本	工人人数
1913	689 家	33 亿元	27 万多
1920	1795 家	50 亿元	55 万多

- ①帝国主义暂时放松了对中国的掠夺 ②提倡国货,抵制洋货
③辛亥革命冲击了封建制度 ④南京国民政府的推动
A. ①②③ B. ①②④ C. ①③④ D. ②③④

26. 在近代西方工业文明的冲击下,新的事物和思想观念影响着中国的社会生活。下列不能反映民国时期社会习俗变化的是(▲)

- A. 旗袍西服中山装,穿着舒适又大方 B. 辫子搭肩三尺长,之乎者也说荒唐
C. 禁缠足,倡女权,男女平等新追求 D. 称先生,道某君,人格平等意义深

27. 有一首歌唱到：“你手持汉阳造血染台儿庄/我手握大刀片喋血平型关/在战壕中你我分享着一口干粮……”歌词所反映的史实发生于(▲)

- A. 北伐战争时期 B. 抗日战争时期 C. 朝鲜战争时期 D. 解放战争时期

28. 归纳和整理是学习历史的有效方法之一,请问下列搭配不正确的一项是(▲)

- A. 十一届三中全会——改革开放
B. 中共“十三大”——社会主义初级阶段基本路线
C. 中共“十四大”——建立社会主义市场经济体制
D. 中共“十五大”——开始提出中国特色社会主义理论

第Ⅱ卷(学科内综合题)

思想品德(共35分)

二、简答题(9分)

36. 阅读漫画图4《别怕, 没到16岁》, 回答以下问题:

(1) 图4漫画中受害同学的哪些权利受到了侵害?(2分)

(2) 面对校园暴力, 正确的做法是什么?(3分)

(3) 请你为构建安全的校园环境提几点合理化建议。(4分)



图4

三、材料分析题(10分)

37. 材料一: 2016年11月, 中国二十四节气申遗成功, 被列入联合国教科文组织人类非物质文化遗产代表作名录。2017年新春伊始, 央视从《中国诗词大会》到《朗读者》, 在综艺节目中注入并融合传统文化元素, 用新的方式激起了年轻人对中华文化的热爱。

材料二: 2017年5月14日至15日, “一带一路”国际合作高峰论坛在中国北京举行。历史上, 陆上丝绸之路和海上丝绸之路就是我国同中亚、东南亚、南亚、西亚、东非、欧洲经贸和文化交流的大通道。“一带一路”建设将深化中国同沿线各国在人文交流领域的合作, 促进不同文明之间的交融, 逐步形成文化资源互通共享的良好局面。

阅读材料回答以下问题:

(1) 请写出两个“二十四节气”的名称。(2分)

(2) 从文化的角度, 说说“中国二十四节气”申遗成功到《中国诗词大会》得到观众认可的原因是什么?(4分)

(3) 在推进“一带一路”建设的过程中, 我们应该怎样面对不同的文化?(4分)

四、实践探究题(16分)

38. 材料一: “革命友谊深似海, 五湖四海奔拢来。”“献了青春献终身, 献了终身献子孙。”六盘水, 作为一个在三线建设时期被“火车拉来的城市”, 上个世纪五六十年代, 数十万人大迁徙, 造就了这个城市。“三线建设”中, 广大建设者风餐露宿, 劈荆斩棘, 肩挑背扛, 挥洒青春热血, 抒写了慷慨激昂, 惊天动地的建设史诗, 形成具有六盘水特色的“三线精神”。

材料二: 六盘水在发展的历程中, 先辈精神代代相传, 形成了新时期的“六盘水精神”。超越, 是新时期“六盘水精神”的主要精髓, 奉献、包容、创新的主要目的, 也就是实现超越。纵观六盘水的发展历程, 就是一个不断超越的过程。近几年, 六盘水深入学习贯彻习近平总书记系列重要讲话精神, 高举循环经济发展的旗帜, 坚持发展和生态两条底线, 弘扬“三线”精神, 深化三变改革(资源变资产、资金变股金、农民变股东), 各项建设取得了骄人的成绩。

[家乡文明我探索] 材料一体现了“三线”建设中形成的哪些精神?(4分)

[家乡文明我传承] 请为传承“三线精神”“六盘水精神”提几条合理化建议。(4分)

[家乡文明导我行] 在传承家乡文明中即将毕业的你如何结合自身实际, 找准自己的位置, 为将来建设家乡做好准备?(4分)

[家乡文明我践行] 作为中学生的你在今后的学习、生活中如何践行“三线精神”“六盘水精神”?(4分)

历史(共 45 分)

五、材料分析题(本大题共三道小题,第 39 小题 14 分;第 40 小题 13 分;第 41 小题 18 分,共 45 分。

请将答案写在答题卡相对应的题号下面)

前言:历史是最好的老师。同学们,希望你们在历史长河的畅游中创造美丽人生!

[民族振兴]

39. 实现中华民族伟大复兴的中国梦是自近代以来中国人民的共同理想。(14 分)

材料一:自林则徐、魏源开眼看世界,到洋务运动“师夷长技以自强”,再到维新派变法图存,这些复兴之路都失败了,直到孙中山领导的辛亥革命才为中华民族的复兴打开了闸门。

——大型电视政论片《复兴之路》解说词

材料二:我们唱着《东方红》,当家做主站起来,我们讲着《春天的故事》,改革开放富起来。

——歌曲《走进新时代》歌词

材料三:“我们的奋斗目标是,到 2020 年国内生产总值和城乡居民人均在 2010 年的基础上翻一番,全面建成小康社会;到本世纪中叶建成富强民主文明和谐的社会主义现代化国家,实现中华民族伟大复兴的中国梦。”

——习近平在博鳌亚洲论坛上的讲话

请回答:

(1) 根据材料一并结合所学知识,谈谈为什么孙中山领导的辛亥革命为中华民族的复兴打开了闸门?(4 分)

(2) 材料二中“当家做主站起来”指的是什么重大历史事件?(2 分)

(3) 在改革开放的历史进程中,我国经济体制改革从农村开始实行了什么制度?(2 分)并形成了怎样的对外开放的新格局?(4 分)

(4) 十八大以来,以习近平为核心的党中央为了实现中国梦提出了“两个一百年”的奋斗目标,根据材料三指出在建党一百周年时要实现什么目标?(1 分)在建国一百周年时要实现什么目标?(1 分)

[思想解放]

40. 思想和行动深刻影响着历史的发展进程。阅读下列材料,回答问题。(13 分)

材料一:《新青年》喊出的最响亮的口号是“民主”和“科学”……“民主”和“科学”的提出不是偶然的。民主的对立物是专制,科学的对立物是愚昧和迷信,这正是中国几千年封建统治的恶果。

——金冲及著《二十世纪中国史纲》(第一卷)

材料二:(14-16 世纪新兴资产阶级)要求以人为中心,而不是以神为中心……追求人生的幸福。

——《世界通史》

材料三:启蒙思想家不承认任何外界的权威,批判王权、教权,表达资产阶级的意志和愿望。

——《世界上下五千年》

(1) 材料一所反映的思想解放运动指的是什么?(2 分)这场运动的倡导者或代表人物有哪些?(写出两个人物即可)(2 分)

(2)材料二所反映的思想解放运动的主要社会思潮是什么?(2分)

(3)在启蒙思想的影响下,法国爆发了什么革命?(2分)十九世纪末中国受启蒙思想影响发生了哪一次资产阶级性质的改革?(2分)

(4)根据以上材料并结合所学知识,谈谈你对思想解放与社会进步、理论与实践、先进人物与社会发展三方面关系的认识。(3分)

[开放包容]

41. 和平与发展是当今世界的时代主题,联系与交流是世界经济发展的重要手段,开放与包容是各国文明进步的重大理念。根据示图和材料回答下列问题。(18分)

材料一:

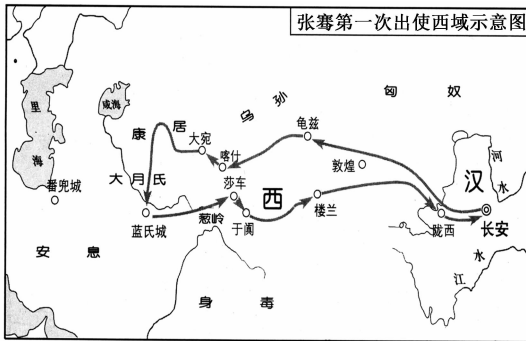


图5

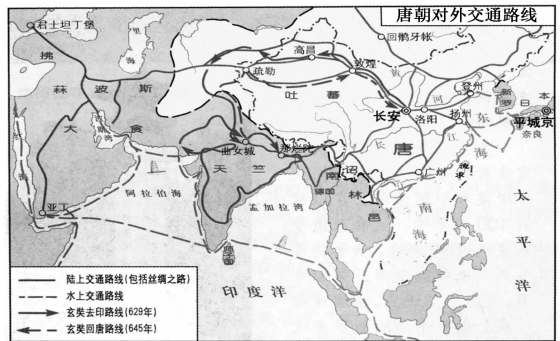


图6

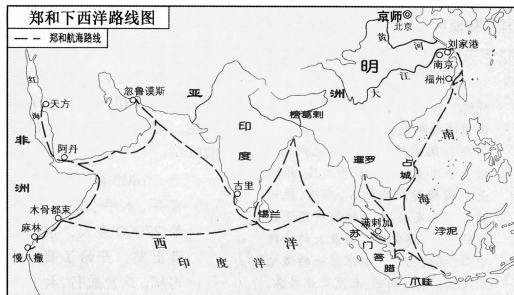


图7

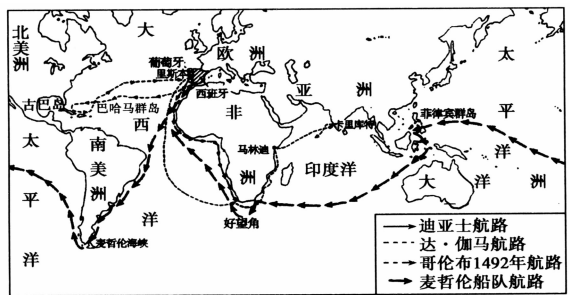


图8

材料二:“一带一路”(即丝绸之路经济带和21世纪海上丝绸之路)的倡议源自中国,但属于世界。它依托历史,弘扬丝路精神,顺应世界潮流,为中国改革开放的推进提供了新的契机,也为世界联动发展注入澎湃活力。

(1)张骞通西域奠定了古丝绸之路的基础,中国古丝绸之路开始开辟于哪个朝代?(2分)丝绸之路开通后,中国传入西方的技术有哪些?(4分)

(2)唐朝时在广州设置了我国历史上最早管理对外贸易的官署是什么?(2分)郑和下西洋的目的是什么?(2分)

(3)新航路开辟的根本原因是什么?(2分)新航路开辟后,最早走上殖民扩张道路的是哪两个西方国家?(2分)

(4)根据本题的前提语、示图和材料,概括古丝绸之路的开辟和发展过程中所体现出的“丝路精神”。(4分)

寄语:亲爱的同学,学习历史不仅是回顾过去,更要正视现实,展望未来。祝你成功!