

海南省 2017 年初中毕业生学业水平考试

地理科试题

(考试时间: 60 分钟 满分: 100 分)

注意事项

1. 本试题包括第一部分选择题和第二部分非选择题。
2. 将答案写在答题卡上, 写在本试题上无效。

第一部分 选择题

选择题共 35 题, 每题 2 分, 共 70 分。在每题给出的四个选项中, 选出一项最符合题目要求的选项。

1. 2017 年 1 月 28 日(除夕) 22 时, 全球华人同步参与央视春晚微信抢红包, 法国巴黎的华人同时参与则是当地时间 14 时, 造成这种时间差异的主要原因是

- A. 四季的变化 B. 月球公转 C. 地球公转 D. 地球自转

2. 下列天气符号代表的天气与我们的生产生活组合合理的是

- A.  野外露营 B.  减少外出
- C.  室外踢球 D.  出海捕鱼

图 1

2017 年 6 月 4 日, 美国总统特朗普访问沙特阿拉伯。完成 3~4 题。

3. 随行翻译除了母语外, 还应精通的语言是

- A. 英语 B. 法语 C. 西班牙语 D. 阿拉伯语

4. 随行人员看到最多的宗教建筑物是

- A. 教堂 B. 清真寺 C. 寺庙 D. 佛塔

5. 下列事实能证明海陆变迁的是

- A. 太阳东升西落 B. 四季变化
- C. 钱塘江的潮涨潮落 D. 台湾海峡的形成

6. 快递包装产生大量的包装纸、不可降解的胶带和塑料袋, 由此带来的环境污染问题日益突出, 下列做法能减少该问题的是

- ①适度包装 ②用可降解的胶带和塑料袋包装 ③分类回收 ④随意使用包装盒
- A. ①②③ B. ②③④ C. ①③④ D. ①②④

读美国本土图(图2),完成7~8题。

7. 图2中阴影部分表示的农业带是
 A. 乳畜带 B. 小麦区
 C. 玉米带 D. 棉花带



图2

8. 从图2中的信息可知
 A. 美国地势东高西低
 B. 美国平原狭小, 山脉众多
 C. 美国最长的河流自北向南流
 D. 五大湖全在美国境内
9. 假期, 小玲到五指山区登山, 发现山上气温比山下低, 其成因是
 A. 经度差异 B. 纬度差异 C. 海拔差异 D. 海陆差异
10. 央视热播的《航拍中国》记录片中展示的坎儿井、棉田、零星分布在山麓的绿洲等画面, 其航拍地是

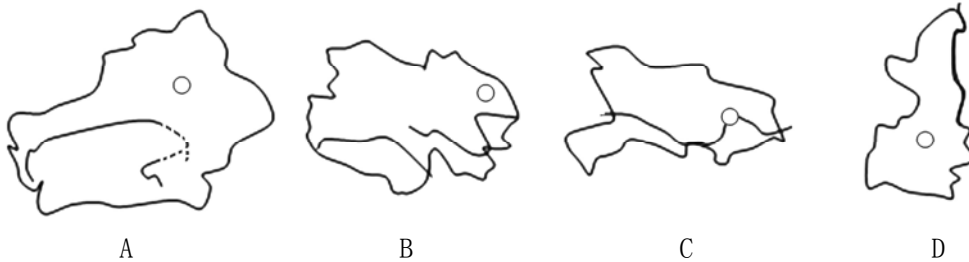


图3

11. 2017年, 我国自主研发的“神威·太阳之光”超级计算机再次占据全球超算榜首, 影响该高新技术发展的主要因素是

- A. 交通、资源 B. 人才、技术 C. 市场、土地 D. 劳动力、矿产

2017年5月18日, 我国在南海首次成功试采可燃冰。

读图4, 完成12~14题。

12. 我国成功试采可燃冰的海域是图中的
 A. 甲 B. 乙 C. 丙 D. 丁



图4

13. 下列关于我国海洋国土的说法, 正确的是
 A. 约有300万平方千米的管辖海域
 B. 四大边缘海中, 面积最大的是东海
 C. 钓鱼岛是中沙群岛面积最大的岛屿
 D. 黄岩岛是三沙市的行政中心

14. 下列符合海洋渔业可持续发展举措的是
 ①季节休渔 ②清除珊瑚礁 ③投放人工鱼礁 ④增殖放流
 A. ①②③ B. ①②④ C. ①③④ D. ②③④
15. 海南夏季应重点防范的灾害性天气是
 A. 台风 B. 寒潮 C. 沙尘暴 D. 地震
16. 我国少数民族中,吃糌粑、喝酥油茶、献哈达、赛牦牛的民族是
 A. 壮族 B. 藏族 C. 傣族 D. 苗族

2017年4月,中共中央、国务院决定设立雄安新区,其地处北京、天津、河北保定腹地,现有开发程度较低,能集中疏解北京非首都功能。完成17~19题。

17. 有关雄安新区开发建设的叙述,正确的是
 ①毗邻京津地区,交通便利 ②缓解北京城市压力
 ③现有开发程度较低 ④原有工业基础好
 A. ①②③ B. ②③④
 C. ①③④ D. ①②④



图5

18. 制约京津冀农业生产的主要自然因素是
 A. 土壤 B. 光照 C. 荒漠化 D. 水资源
19. 图6中,能正确反映京津冀地区气候特征的是

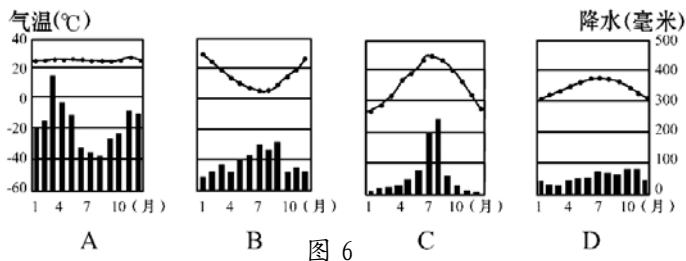


图6

20. 假如你是一名导游,你向游客推荐具有海南特色的水果是
 A. 红枣 B. 椰子 C. 苹果 D. 猕猴桃
- 2017年3月22日是第二十五届“世界水日”,主题是“废水”。完成21~22题。
21. 下列关于我国水资源的叙述,正确的是
 A. 水资源丰富,无需节水 B. 水资源分布不均,南多北少
 C. 西北地区水资源丰富 D. 北方地区人均水资源居全国首位
22. 在生产生活中,下列水资源利用方式可取的是
 A. 一水多用,废水利用 B. 大水漫灌农田
 C. 直接排放废水 D. 大量使用地下水

读我国四大地理区域图(图7),完成23~24题。

23. 下列与①④两区域界线大致一致的是

- A. 种植业与畜牧业的界线
- B. 湿润区与半湿润区的界线
- C. 热带与亚热带的界线
- D. 一月份10℃等温线

24. 下列关于四大地理区域的说法,正确的是

- A. ①区耕地以水田为主
- B. ②区普遍种植油菜和玉米
- C. ③区是我国许多大河的发源地
- D. ④区沙尘暴气象灾害频发

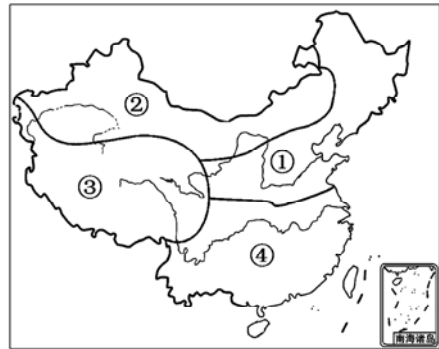


图7

25. 我国地域经济发展各具特色,下列叙述正确的是

- A. 香港经济以博彩业为主
- B. 东北地区是我国重要的重工业基地
- C. 澳门转口贸易发达
- D. 台湾工业集中分布在东部地区

读长江流域图(图8),完成26~27题。

26. 下列关于长江各河段水文特征的叙述,正确的是

- A. 甲河段水流平缓,航运发达
- B. 乙河段水量锐减,水能丰富
- C. 丙河段江阔水深,航运价值高
- D. 长江流域支流稀少

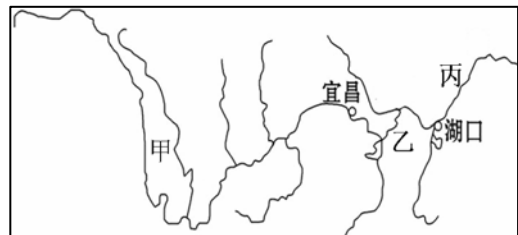


图8

27. 治理长江的主要措施是

- ①修建水库
 - ②围湖造田
 - ③疏通河道
 - ④清除蓄洪区
- A. ①③ B. ②③ C. ①② D. ②④

28. 横跨我国东、西部,连接大西洋沿岸的“第二亚欧大陆桥”在我国境内的铁路是

- A. 京哈—京广线
- B. 沪昆线
- C. 陇海—兰新线
- D. 京沪线

读图9,完成29~30题。

29. 下列关于北极地区的叙述,正确的是

- A. 居住在这里的因纽特人为白种人
- B. 从北极上空看地球自转方向是顺时针
- C. 6月22日可以看到美丽的极光
- D. 北极地区科考最佳时间是7~8月

30. 图中甲的经纬度是

- A. (80° N, 120° E)
- B. (80° N, 150° E)
- C. (80° N, 150° W)
- D. (80° S, 60° W)

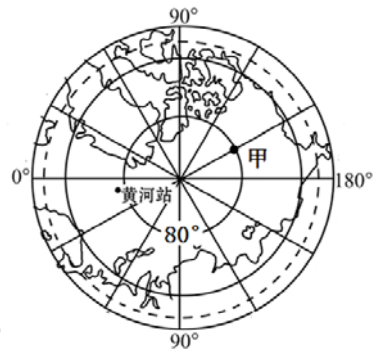


图9

31. 有关亚洲的叙述,正确的是

- A. 均位于东半球
- B. 地跨寒、温、热三带
- C. 有“高原大陆”之称
- D. 有世界最大的淡水湖

32. 海南依托碧海蓝天、滨海沙滩等发展的产业是
 A. 畜牧业 B. 钢铁工业 C. 旅游业 D. 采矿业
33. 2017年世界环境日中国主题是：“绿水青山就是金山银山”，下列行为符合该主题的是
 A. 砍伐森林，获取木材 B. 焚烧垃圾，美化环境
 C. 烧山垦荒，获取粮食 D. 植树种草，保持水土

读澳大利亚气候类型分布图(图10)，完成34~35题。

34. 图中①②气候类型呈狭长分布的主要影响因素是
 A. 纬度因素 B. 西风的影响
 C. 地形因素 D. 人类活动的影响
35. 某农场主计划从英国引种多汁牧草,应选择的地点是
 A. 甲 B. 乙 C. 丙 D. 丁

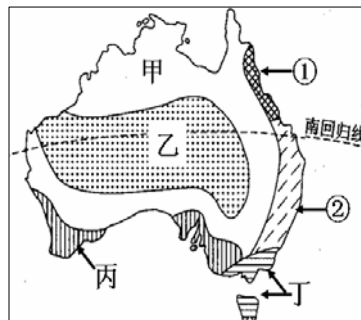


图10

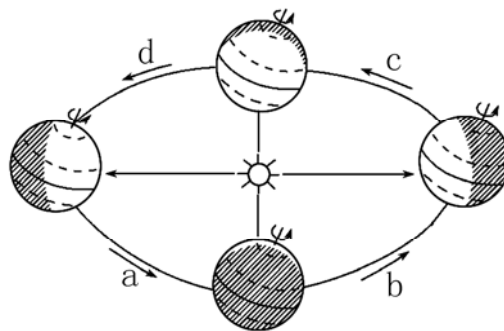
第二部分 非选择题

非选择题共3题，每题10分，共30分。

36. “五一”假期，我国南方某校学生开展地理野外实践活动，实践地为图甲。
 读图11,完成下列要求。(10分)



甲



乙

图11

- (1) 在答题卡对应的方框内，画出甲图的线段式比例尺。
- (2) 地形部位：A是_____；李村位于王村的_____方。
- (3) 活动期间,地球运行在乙图中的位置是___段，此时当地昼夜长短状况是_____。
 王、李两村中有太阳直射现象的是_____。
- (4) 同学们考查发现，当地耕地类型是_____，主要粮食作物是_____，两村落选址的共同自然条件是_____ (2分)。

37. 读图文材料，回答下列问题。

材料：由中国倡导的“一带一路”是指丝绸之路经济带和 21 世纪海上丝绸之路，此倡议提出以来，大批合作项目稳步推进。2017 年 5 月 31 日，中国和肯尼亚合作的“蒙内铁路”（蒙巴萨-内罗毕）正式通车。

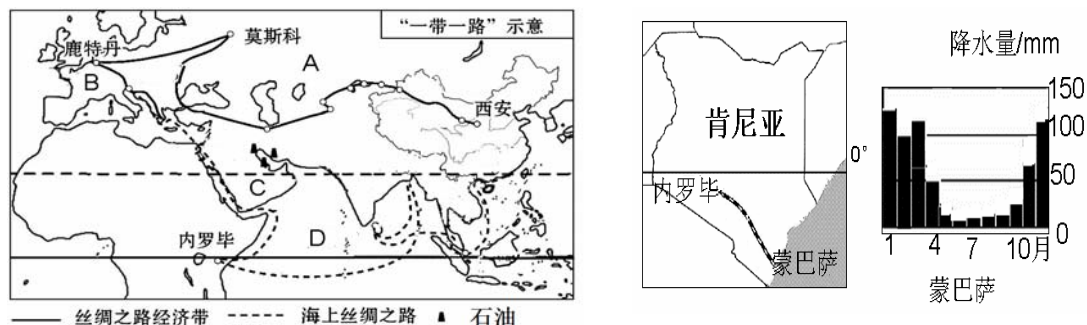


图 12

- (1) 丝绸之路经济带经过 A 地区的气候类型是_____，B 地区的地形以_____为主，从经济发展水平看，该地大多属于_____国家。
- (2) C 半岛河流稀少的主要原因是_____ (2 分)，本地区丰富的石油资源主要分布在_____及沿岸地区。
- (3) 蒙巴萨濒临的大洋 D 是_____，从蒙巴萨到鹿特丹最便捷的海上运输是经_____运河的航线，蒙内铁路开通时，蒙巴萨属于_____ (填“湿季”或“干季”)，我国和肯尼亚的互助合作称为_____。

38. 读图文材料，完成下列各题(10 分)。

材料一：石漠化是指喀斯特山区土层薄，基岩出露浅，暴雨冲刷强，大量的水土流失后岩石逐渐凸显裸露，由于人类不合理的活动，植被破坏，水土流失，岩石逐渐裸露的演变过程。

材料二：南海不仅蕴藏着丰富的常规油气资源，而且富集非常规的可燃冰资源，开发前景十分广阔。省第七次党代会指出：“海南发展的最大潜力是要加快海洋油气产业发展，做强以洋浦、东方为中心的临港油气化工产业基地。”

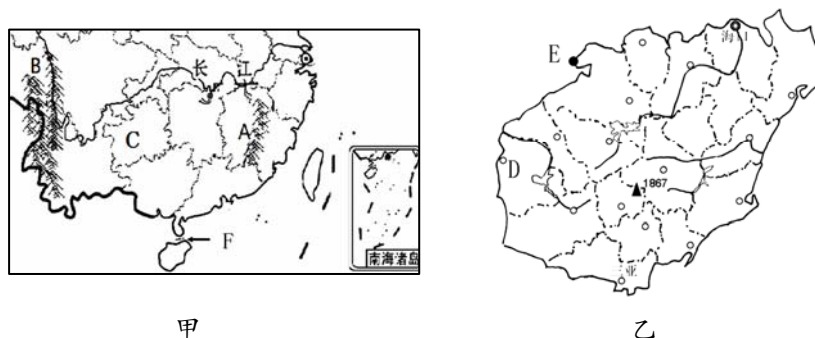


图 13

- (1) A 是_____山脉，B 山脉以西是我国地势的第_____级阶梯。
- (2) C 省的简称是_____，该省石漠化严重，其自然原因是_____ (2 分)。
- (3) 图甲中 F 是_____海峡，乙图中 D 是_____市，E 港口是_____，海南发展油气化工产业的有利条件是_____ (从资源、交通方面分析)(2 分)。